

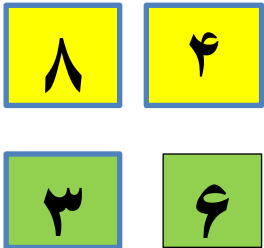


۱- الگوها را ادامه بده
 ده- بیست - سی -
 ۹۰-۸۰-.....-۱۰


۲- وصل کن

هشتاد	۹۰	۹۹	بیست و چهار
پنجاه و سه	۴۶	۳۸	هفتاد و پنج
نود	۸۰	۲۴	نود و نه
چهل و شش	۵۳	۷۵	سی و هشت

۳- با کارت ها عدد دو رقمی بساز



۴- محور را کامل کن.



$۳۰ + ۴۰ = \dots$

$۸۰ - ۲۰ = \dots$

$۳ - ۶ = \dots$

۵- الگوها را ادامه بده

$۱۰ - ۲۰ = \dots$

$۶ - ۱۲ = \dots$

$۹ - ۱۸ = \dots$


$۵۹ \rightarrow$

۶- تقریب بزن (به چند نزدیک است)

$۸۶ \rightarrow$

$۹۳ \rightarrow$


۸۰ ○ ۲۰ ۲۰ ○ ۶۰ ۶۰ ○ ۷۰



۳۲ ○ ۲۳ ۴۸ ○ ۹۳ ۹۷ ○ ۷۹ ۳۹ ○ ۴۶

۸- الف) کوچک ترین عدد دورقمی است

ب) بزرگ ترین عدد دورقمی است



یک عدد دورقمی بنویس که یکان آن ۷ و دهگان آن ۲ تا بیشتر باشد

یک عدد دورقمی بنویس که یکان آن ۹ و دهگان آن ۳ تا کمتر باشد

عدد ۶۴ چند رقمی است ؟

رقم دهگان عدد ۵۴ چه عددی است ؟

$43 + 25 =$

۹- برای جمع زیر شکل بکش و حل کن (بسته ده تایی و یکی)

$13 + 26 =$

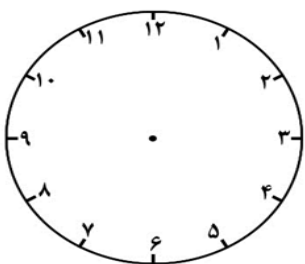
$56 - 24 =$

۱۰- امیرحسین ۱۸ کتاب علمی و درسی دارد. اگر ۹ کتاب درسی داشته باشد. او چند کتاب علمی دارد.

۱۱- کامل کن

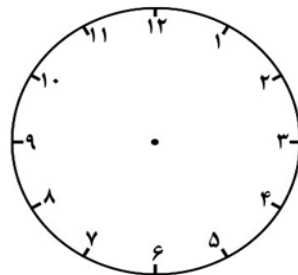
+	۶	۷	۸	۹
۵				
۶				

-	۸	۱۰	۹	۵
۱۸				
۱۲				



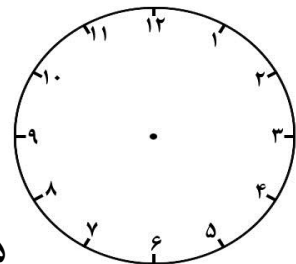
۹:۳۰

خانم دهقانی



۵:۳۵

خسته نباشی



۲:۲۵